



1 かずを かぞえて、すうじで かきましょう。

(5点×3)

(1)

十のくらい	一のくらい
〔 〕	

(2)

十のくらい	一のくらい
〔 〕	

(3)

十のくらい	一のくらい
〔 〕	

2 ● は いくつ ありますか。すうじで かきましょう。

(5点×5)

(1)

十のくらい	一のくらい
〔 〕	

(2)

十のくらい	一のくらい
〔 〕	

(3)

十のくらい	一のくらい
〔 〕	

(4)

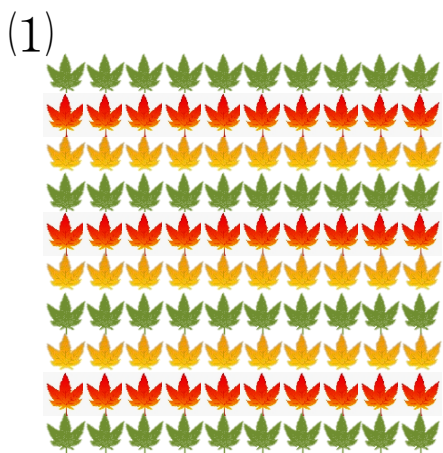
十のくらい	一のくらい
〔 〕	

(5)

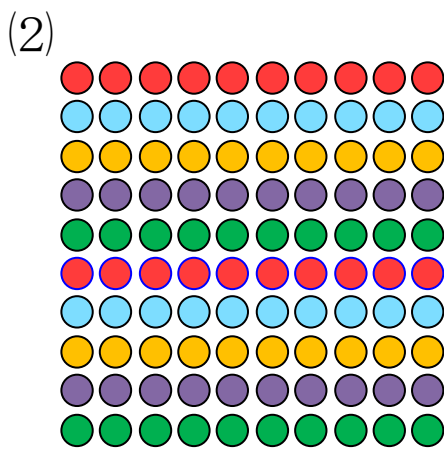
十のくらい	一のくらい
〔 〕	

3 []の かずだけ ○で かこみましょう。

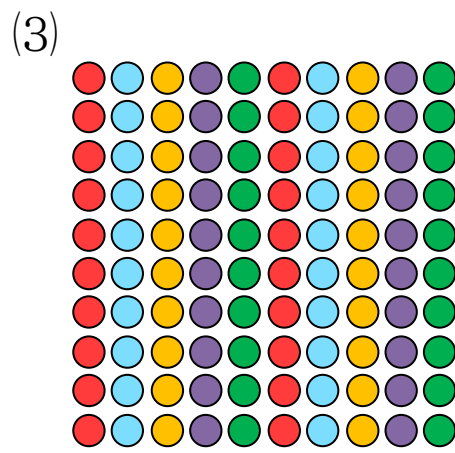
(5点×3)



[62]



[80]



[94]

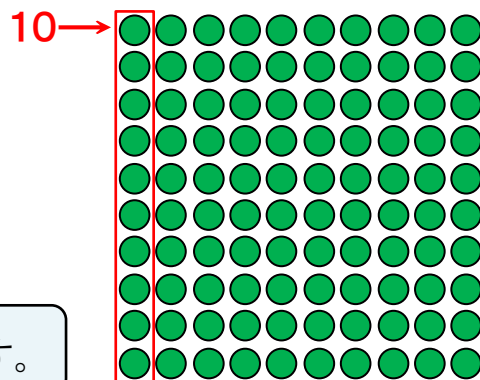
4 ●の かずを かぞえます。あとの もんだいに こたえましょう。(5点×2)

(1) 10の かたまりが いくつ ありますか。

こたえ(こ)

(2) ●は ぜんぶで いくつ ありますか。

こたえ(こ)



10を 10こ あつめると 100(百)になります。

5 いくつ ありますか。□に かずを かきましょう。

(5点×7)

(1) 10が 5つで □です。

(2) 10が 4つと 1が4つで □です。

(3) 10が 8つと 1が6つで □です。

(4) 十のくらいが 3, 一のくらいが 2の かずは □です。


(5) 十のくらいが 7, 一のくらいが 0の かずは □です。

(6) 97は 10が □つと 1が □つです。

(7) 49は 1が □つと 10が □つです。



1 えと、かずの ひょうをみて、 に あてはまる かずを かきましょう。(7点×5)



1	2	3	4	5	6	7	8	9	10
11	12	13	14	15	16	17	18	19	20
21	22	23	24	25	26	27	28	29	30
31	32	33	34	35	36	37	38	39	40
41	42	43	44	45	46	47	48	49	50
51	52	53	54	55	56	57	58	59	60
61	62	63	64	65	66	67	68	69	70
71	72	73	74	75	76	77	78	79	80
81	82	83	84	85	86	87	88	89	90
91	92	93	94	95	96	97	98	99	100

- (1) 10まい 10まい 10まい 10まい 10まい 10まい 10まい 10まい 10まい 10まい

10が 10こ あつまると (百)に なります。

- (2) 99より 1 ^{おお}大きい かずは、 です。
- (3) 59より 1 ^{おお}大きい かずは、 です。
- (4) 40より 1 ^{ちい}小さい かずは、 です。
- (5) 100より 1 ^{ちい}小さい かずは、 です。

ひょうを よこに みると、
一の くらいは 1ずつ
ふえています。
ひょうを たてに みると、
十の くらいは
10ずつ ふえて
います。

2 ㊦㊩㊪の かずは なにですか。(5点×3)

2	3		5	6
12		㊦		16
22	23		25	26

{ }

51	52	53	54
	㊩	63	64
71	72	73	74

{ }

74	75	76	77
	㊪	86	87
94		96	97

{ }



1 大きい ほうを ○で かこみましょう。 (2点×6)

(1) (50 と 40) (2) (84 と 68) (3) (79 と 91)

(4) (37 と 67) (5) (56 と 53) (6) (59 と 70)

2 大きい じゅんに ならびかえましょう。 (4点×5)

(1) (26, 71, 55, 62) (2) (49, 60, 59, 40)

, , ,

, , ,

(3) (93, 39, 47, 74) (4) (68, 100, 96, 70)

, , ,

, , ,

(5) (98, 55, 100, 79, 49)

, , , ,



3 に あてはまる かずを かきましょう。 (1点×15)

(1) — 83 — — — 86 — — 88 — 89 —

(2) 45 — 44 — — — 41 — — — — 37

(3) — — 40 — 50 — 60 — — — 90 —

5 つぎの たしざんを しましょう。

(2点×12)

① $30 + 1$

② $60 + 5$

③ $40 + 7$

④ $10 + 8$

⑤ $90 + 6$

⑥ $70 + 3$

⑦ $3 + 80$

⑧ $6 + 20$

⑨ $9 + 90$

⑩ $5 + 30$

⑪ $4 + 60$

⑫ $8 + 50$

6 つぎの ひきざんを しましょう。

(2点×12)

① $21 - 1$

② $53 - 3$

③ $89 - 9$

④ $75 - 5$

⑤ $97 - 7$

⑥ $64 - 4$

⑦ $32 - 30$

⑧ $58 - 50$

⑨ $48 - 40$

⑩ $91 - 90$

⑪ $66 - 60$

⑫ $73 - 70$

7 おかねが 60円 あります。8円 ふえると なん円に なりますか。

(8点)

(しき)

こたえ()

8 おかねが 85円 あります。80円 つかうと なん円に なりますか。

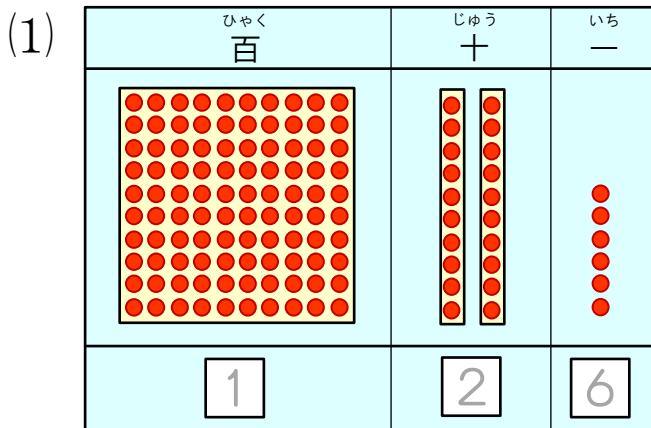
(9点)

(しき)

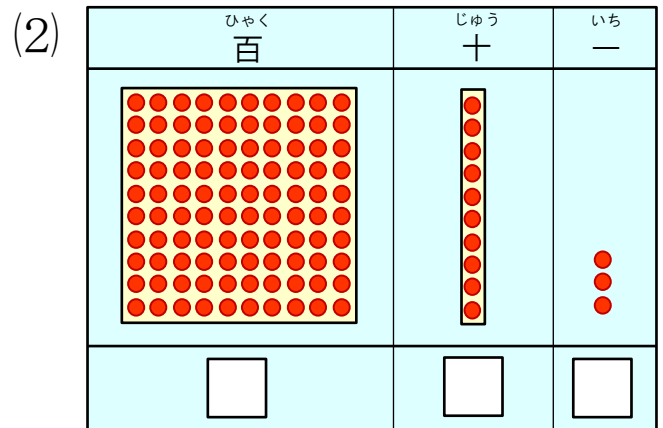
こたえ()



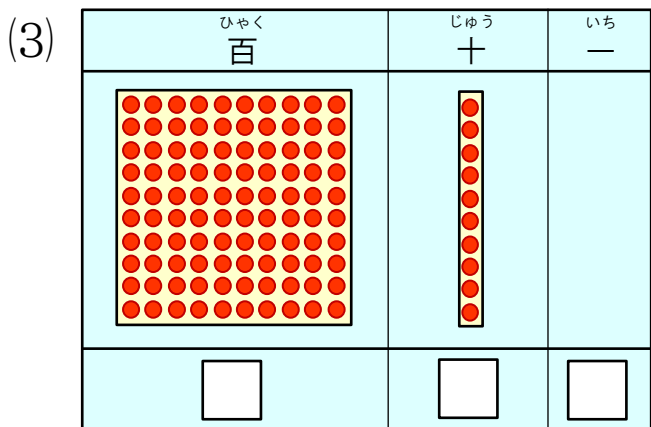
1 ●は いくつ ありますか。すうじと ことばを かきましょう。(5点+9点×5)



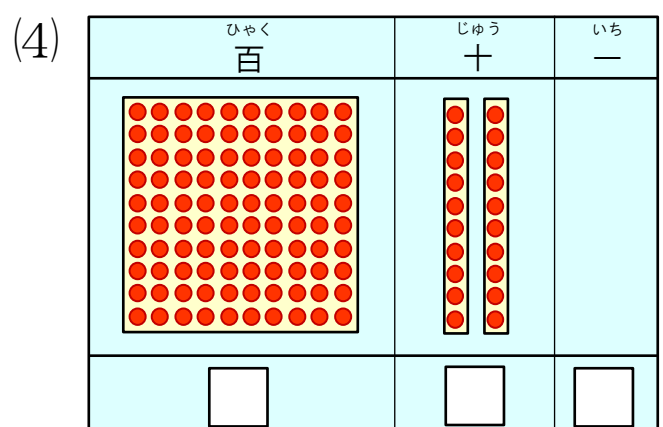
{ ひゃくにじゅうろく } 126



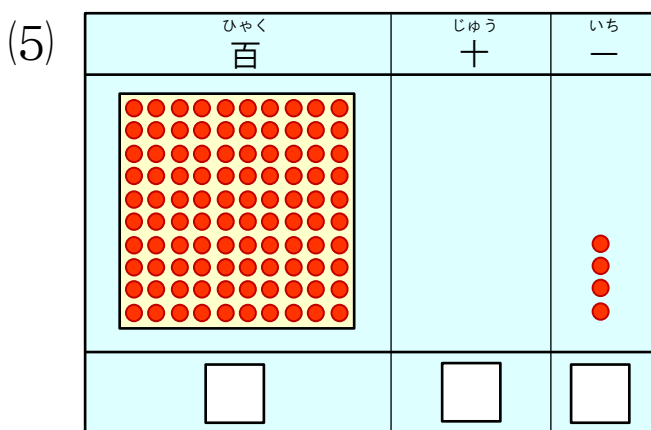
{ }



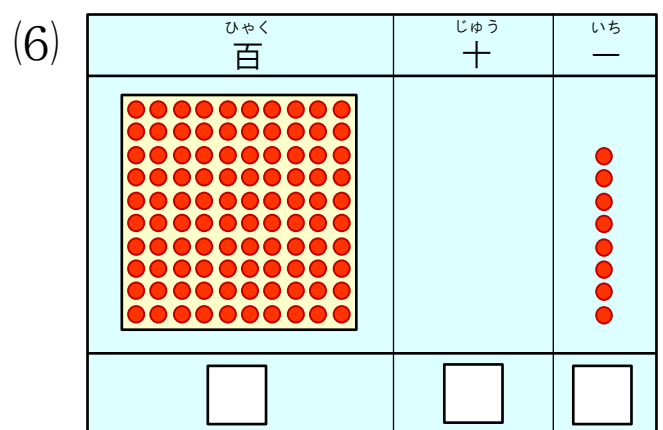
{ }



{ }



{ }




{ }

2 なん本^{ほん} ありますか。ことばと すうじで かきましょう。


(10点×5)

(1)




100 と 25

(2)




100 と 17

(3)




100 と 30

(4)



100 と 9

(5)



100 と 2



1 なんまい ありますか。すうじで かきましょう。

(5点×2)

(1)   まい

(2)   まい

 10まい

2 1から 100まで じゅんじょよく かいて いくとき、**あ**から **そ**にはいる かずを かきましょう。

(2点×15)

1	2	3	4	5	6	7	8	9	10
				あ					
21						い			
う			34	35		え	38	39	
			44	45			48	49	お
		か	54	55			58	59	
61	62	63		き		67	68		70
71	72	73				77	78	く	
			84	85	86	87	88	89	90
91		け		95		97		99	こ
	102	103	さ	105		し	108	109	
111	112				す	117	118	119	せ
			そ	125					

あ	
い	
う	
え	
お	
か	
き	
く	
け	
こ	
さ	
し	
す	
せ	
そ	



(1) 上の ^{うえ} したものの ^{ねだん} を、ひらがなで かきましょう。 (5点×4)

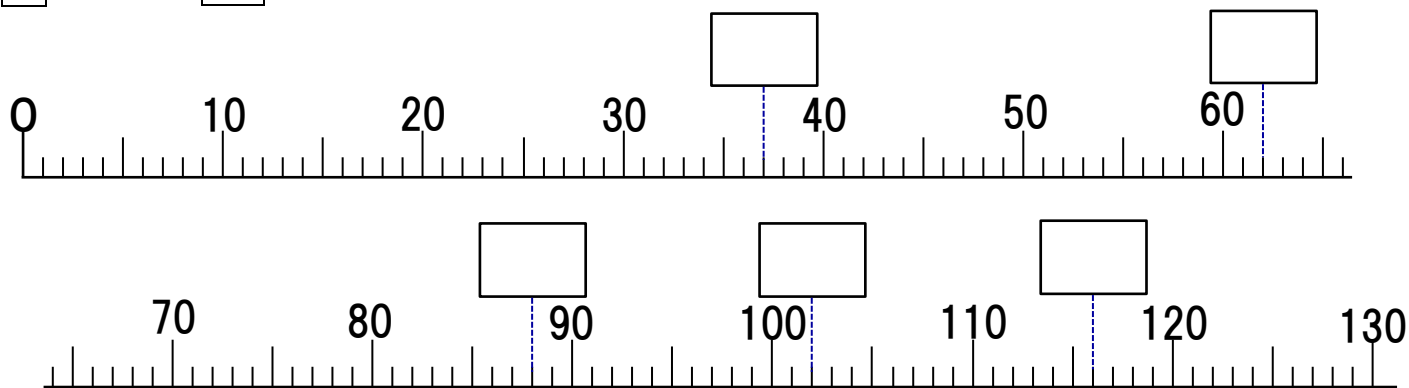
(あ) [^{えん} 円] (い) [円]

(う) [円] (え) [円]

(2) 100円で かえる ものと かえない ものに わけましょう。 (5点×2)

かえるもの [] かえないもの []

4 下の □ にはいる かずを かきましょう。 (3点×5)



5 おかねが 70円 あります。6円 ふえると なん円に なりますか。 (7点)

(しき)

こたえ ()

6 おかねが 74円 あります。4円 へると なん円に なりますか。 (8点)

(しき)

こたえ ()

3 100円で どんな かいものが できますか。

(10点×5)

<p>チョコ</p>  <p>20円</p>	<p>ラムネ</p>  <p>30円</p>	<p>グミ</p>  <p>40円</p>	<p>せんべい</p>  <p>50円</p>
---	---	---	--

(れい) 10円を かこんで いって、^{した}下に
しなもの の なまえを かきましょう。


 [チョコ・チョコ・せんべい]



(1) 
[]

(2) 
[]

(3) 
[]

(4) 
[]

(5) 
[]



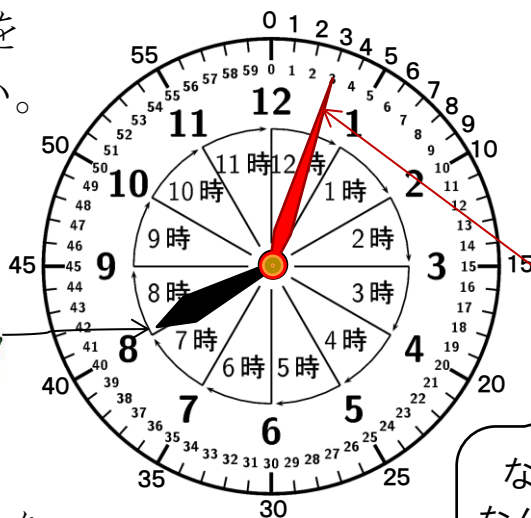
1 いなり山に ^{やま} えんそくに いきました。とけいを よみましょう。 (10点×10)

(1) がっこうの まえを でた のは、なんじ なんぷんですか。

ア みじかい はりは、なんじを
すこし すぎた ところですか。

(じ)

みじかい はりで
なんじを よみます。



ながいはりで
なんぷんを よみます。
1目もりは 1ぷんを
あらわします。



イ ながい はりは、なんぷんを
さして いますか。

(ぷん)

ウ がっこうの まえを でたのは、なんじ なんぷんですか。

(じ ぷん)

(2) おてらに ついた

8じを すこし すぎた ところです。



(じ ぷん)



(3) はしを わたった

(じ ぷん)



はんの ことを30ぷんとも いいます。

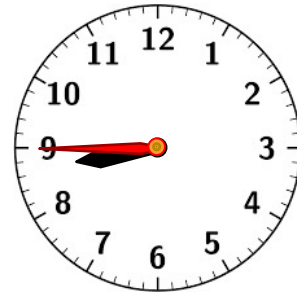
(4) えきに ついた

(じ ふん)



(5) でんしゃに のった

(じ ふん)

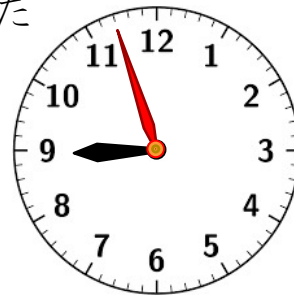


(6) まどから ^{じえいあーる} JR の でんしゃを みた

(じ ふん)



もう すこしで 9じです。



(7) じんじゃに ついた

(じ ふん)



(8) 山の ちょうじょうに ついた

(じ ふん)



いなり山の えんそく
たのしかったね。

